

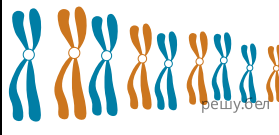



Для каждого примера мутационных изменений (А–В) укажите вид мутации:

Структура хромосом				Вид мутации
до мутации	после мутации			
	А	Б	В	
				<ol style="list-style-type: none"> <li>1) трисомия</li> <li>2) тетрасомия</li> <li>3) пентасомия</li> <li>4) триплоидия</li> <li>5) нуллисомия</li> </ol>

Ответ запишите в виде сочетания букв и цифр, соблюдая алфавитную последовательность букв. Например: А1Б2В3.